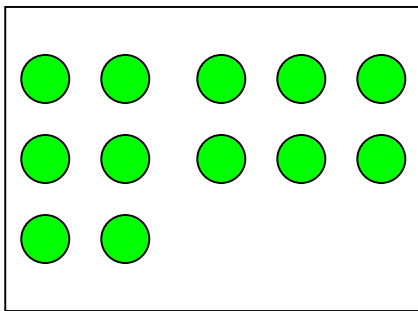


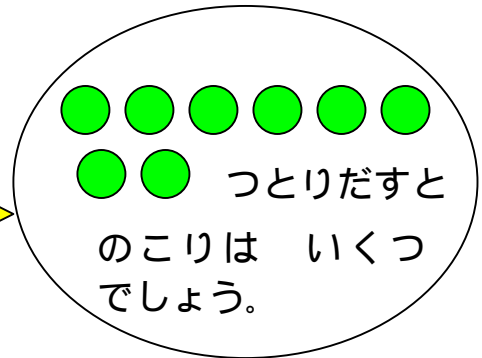

ひきざん(2)

ねん	くみ	ばん
なまえ		

ひきざんを しましょう。



ここから

し
き

$$\square - \square = \square$$

こたえ：●は のこります。

$$13 - 9$$

$$15 - 8$$

$$17 - 8$$

$$12 - 7$$