

長さ

センチメートル

ねん	くみ	ばん
なまえ		

- 1 . 赤いテープと、青いテープの長さは何cmでしょう。

青

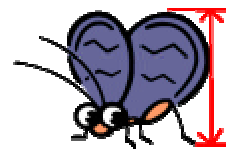

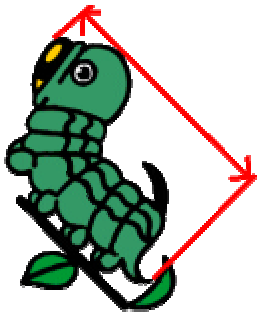


赤



どちらのテープが、何cm長いでしょうか。

- 2 . それぞれの虫のせの高さは、何cmでしょう。
3ばんめにせが高い虫は何でしょう。



- 3 . 5 cmと、1 2 cmの直線を書きましょう。