

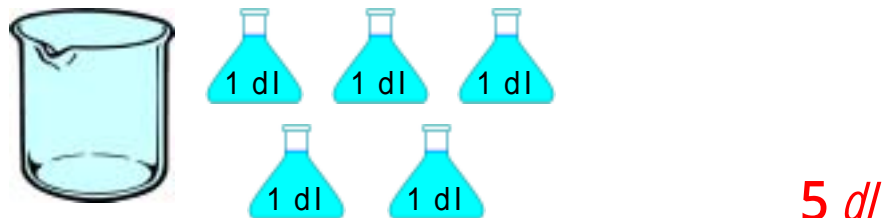
水のかさ

ねん くみ ばん

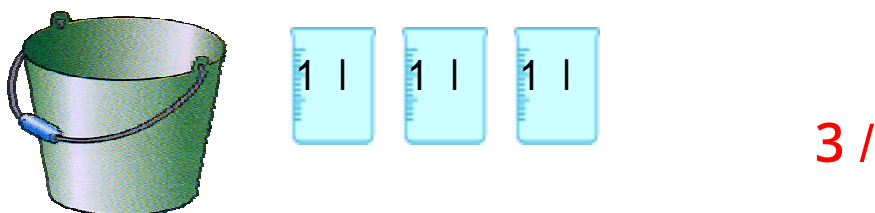
デシリットルとリットル

なまえ

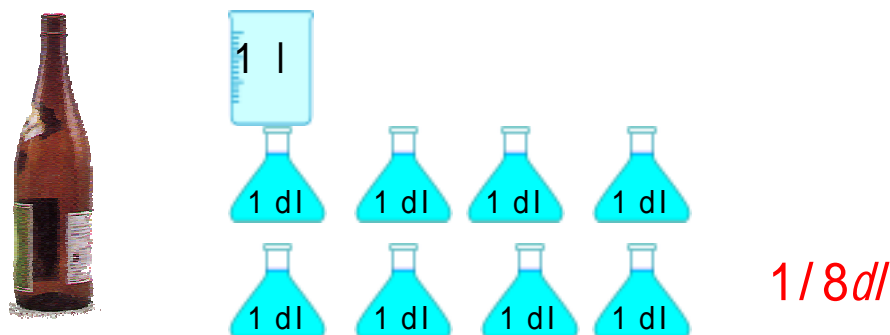
1. それぞれのかさはどれだけでしょう。



5 dl



3 l



1/8 dl

2. ^{かず}にあう^か数を書きましょう。

$$2 \text{ l} = 20 \text{ dl}$$

$$20 \text{ dl} = 2 \text{ l}$$

$$3 \text{ l} 6 \text{ dl} = 36 \text{ dl}$$

$$83 \text{ dl} = 8 \text{ l} 3 \text{ dl}$$

3. 計算をしましょう。

$$3 \text{ dl} + 5 \text{ dl} = 8 \text{ dl}$$

$$7 \text{ l} - 4 \text{ l} = 3 \text{ l}$$

$$8 \text{ l} 4 \text{ dl} + 1 \text{ dl} = 8 \text{ l} 5 \text{ dl}$$

$$3 \text{ l} 2 \text{ dl} - 2 \text{ dl} = 3 \text{ l}$$

$$5 \text{ l} 3 \text{ dl} + 3 \text{ l} = 8 \text{ l} 3 \text{ dl}$$

$$6 \text{ l} 5 \text{ dl} - 5 \text{ dl} = 6 \text{ l}$$