

3けたのひき算


## ぶんしょうだい

ねん	くみ	ばん
なまえ		


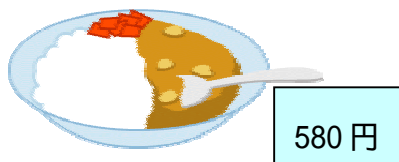
- 1 . ホテルに 900 人とまっています。  
男の人は 436 人とまっています。  
女の人は何人とまっているでしょう。

$$900 - 436 = 464$$

464 人



- 2 . カレーライス、580 円。かきごおりは、265 円です。



カレーライスはかきごおりよりいくらたかいでしょう。

$$580 - 265 = 315 \quad 315 \text{ 円}$$

かきごおりと、オムライスあわせて 856 円です。オムライスはいくらでしょう。

$$856 - 265 = 591 \quad 591 \text{ 円}$$

- 3 . 学校ぜんぶで、ことしは 753 人います。きよねんはことしより 65 人すくなくったそうです。きよねんは何人いたでしょう。

$$753 - 65 = 688 \quad 688 \text{ 人}$$