

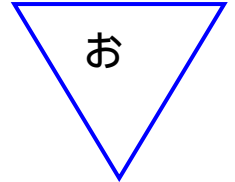
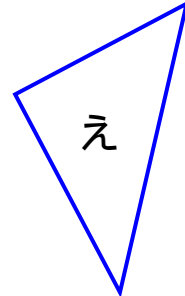
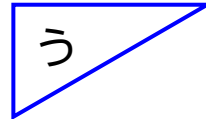
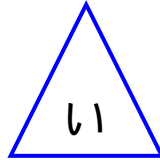
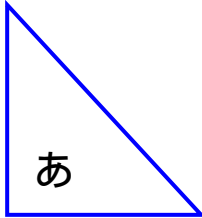
三角形と四角形

## 直角三角形

ねん くみ ばん

なまえ

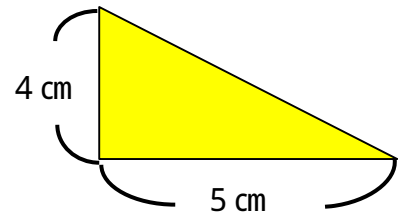
1. <sup>ちよっかく</sup> 直角三角形はどれでしょう。



あうえ

2. 下のほうがんに書きこみましょう。

右の図の大きさ  
の直角三角形



直角になる2つの辺の長さが3 cmと3 cmの直角三角形

