

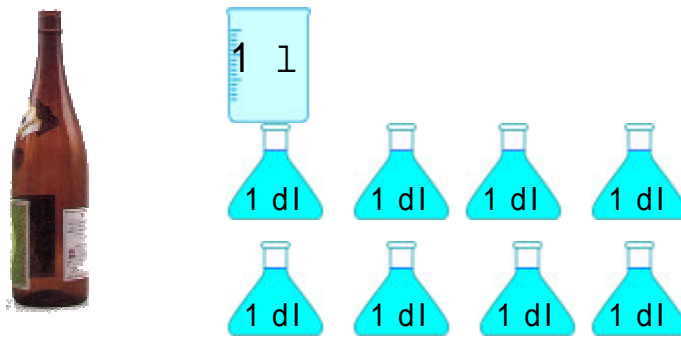

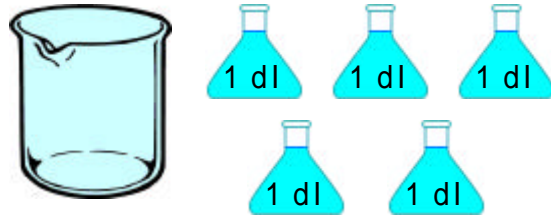
水のかさ

ねん くみ ばん

## デシリットルとリットル

なまえ

1. それぞれのかさはどれだけでしょう。

2. <sup>かず</sup>にあう<sup>か</sup>数を書きましょう。

$$1\text{l} = \quad \text{dl} \qquad 20\text{dl} = \quad \text{l}$$

$$3\text{l} \quad 6\text{dl} = \qquad 83\text{dl} = \quad \text{l}$$

dl

dl

3. 計算をしましょう。

$$3\text{dl} + 5\text{dl}$$

$$7\text{l} - 4\text{l}$$

$$8\text{l} + 4\text{dl} + 1\text{dl}$$

$$3\text{l} + 2\text{dl} - 2\text{dl}$$

513d1+31

615d1-5d1