

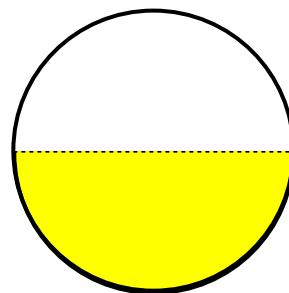

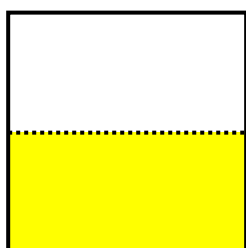
分数

分けた大きさ


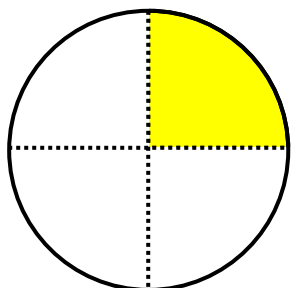
年 組 番

名前

もとの大きさの $\frac{1}{2}$ に色をぬりましょう。



もとの大きさの $\frac{1}{4}$ に色をぬりましょう。



いのリボンの長さは、あのリボンの長さの何分の1でしょう。


 $\frac{1}{6}$