




小数

年 組 番

はしたの表し方(小数)

名前

それぞれのテープの長さをかきましょう。



つぎの にあてはまる数をかきましょう。

$$2 \ell 7 d\ell = \boxed{\phantom{00}} \ell$$

$$6 \text{ cm } 3 \text{ mm} = \boxed{\phantom{00}} \text{ cm}$$