

分数をかける計算

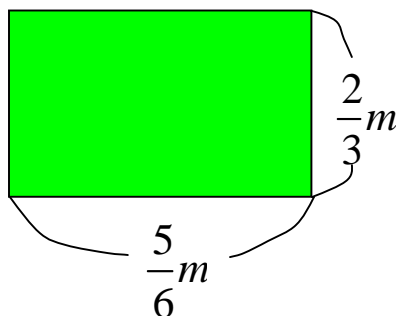
年 組 番

面積や体積を求める

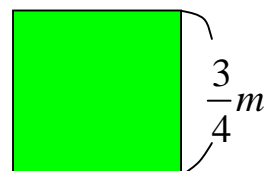
名前

1. 次の面積や体積を求めましょう。

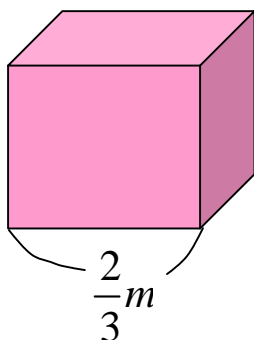
長方形の面積



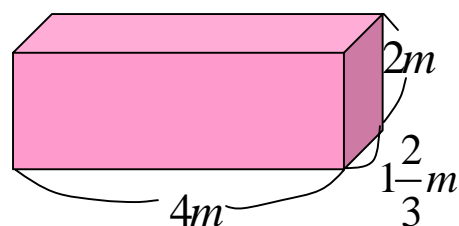
正方形の面積



立方体の体積



直方体の体積



2. 次の面積や体積を求めましょう。

1 辺が $1\frac{2}{3}m$ の正方形の面積たて $\frac{1}{4}m$ 、横 $\frac{5}{7}m$ の長方形の面積たて $\frac{5}{8}m$ 、横 $\frac{2}{5}m$ 、高さ $4m$ の直方体の体積