



ひきざん(1)

ねん くみ ばん
なまえ

のこりは なんにんでしょう。




5にんが ろうかに
います。




ひとり いなくなると

$$5 - 1 = 4$$



3にん いなくなると

$$5 - 3 = 2$$



5にん いなくなると

$$5 - 5 = 0$$