

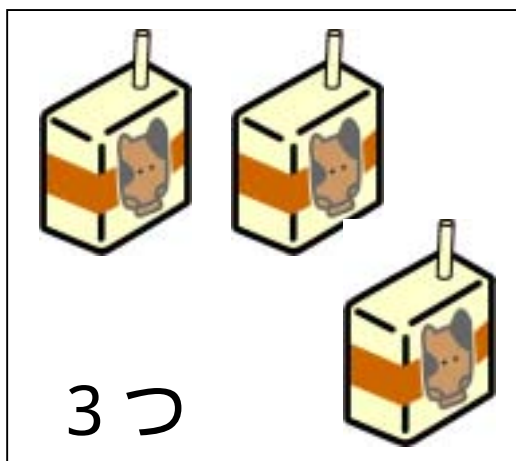
ひきざん(1)

ねん くみ ばん

なまえ

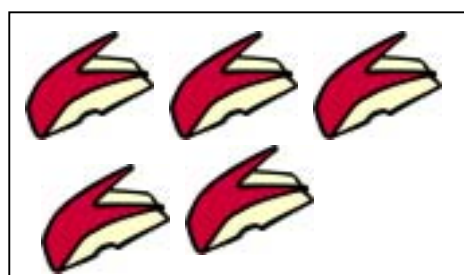
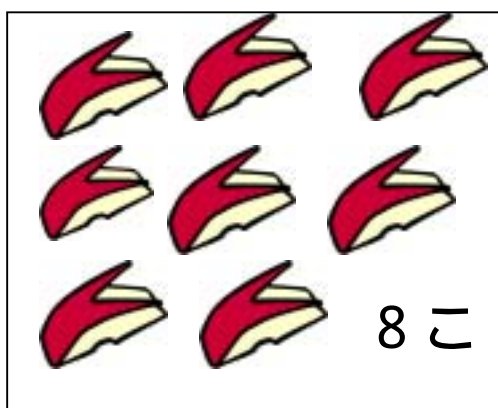
のこりは いくつですか。

しきを かいて きたえましょう。

1つ のむと

$$\square - \square = \square$$

きたえ

5こ たべると

$$\square - \square = \square$$

きたえ