



かけ算

## かけ算の いみ


ねん	くみ	ばん
なまえ		



1. えにあわせて、<sup>かず</sup>にあてはまる数やかけ算のしきをかきましょう。

 (アスパラガス) は  (おさら) 1まいに 3 本ずつ、3 まいぶんで、ぜんぶで 9 本。



しき  $3 \times 3 = 9$



 (さつまいも) は、 (おさら) 1まいに 2 こずつ、8 まいぶんで、ぜんぶで 16 こ。

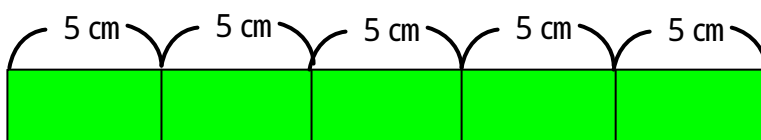
しき  $2 \times 8 = 16$

2. かけ算の式を書いてこたえましょう。  
ばななは、ぜんぶでなん本でしょう。



$4 \times 5 = 20$   
20 本

テープはぜんぶで何cmでしょう。



$5 \times 5 = 25$   
25cm