

1000 までの 数

数の大小

ねん	くみ	ばん
なまえ		

1 . にあてはまる > か < を書きましょう。

736 236

520 580

620 619

236 251


306 304


101 98

2 . 下の数の線の | にあてはまる数を書きましょう。




3 . 3けたの数の書いたカードがあります。数が1つかくれているカードです。大きいほうに をうちましよう。

4 5  ()

6 5  ()


3 9  ()

6 9  ()

2  5 ()

7  9 ()

3  5 ()

7 0 8  ()