

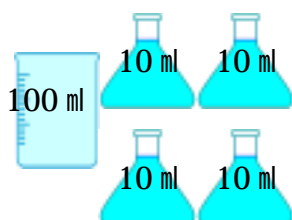
水のかさ

ミリリットル


ねん くみ ばん

なまえ


1 . つぎのかさはどれだけでしょう。ml で書きましょう。



140ml



400ml



600ml

2 . にかずかにあう数を書きましょう。

$$1\text{ l} = 1000\text{ ml}$$

$$6\text{ dl} = 600\text{ ml}$$

$$900\text{ ml} = 9\text{ dl}$$

$$5\text{ l} = 50\text{ dl}$$

3 . かさの多いじゅんばんを () に書きましょう。

(4) 3dl

(4) 500ml

(3) 2l 6dl

(2) 4l

(1) 3l

(3) 3l 6dl

(2) 29dl

(1) 42dl