

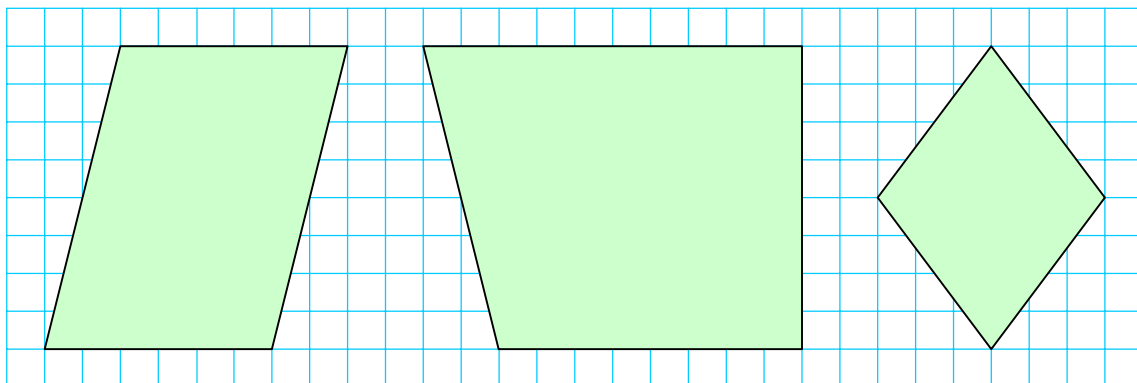
四角形

いろいろな四角形

年 組 番

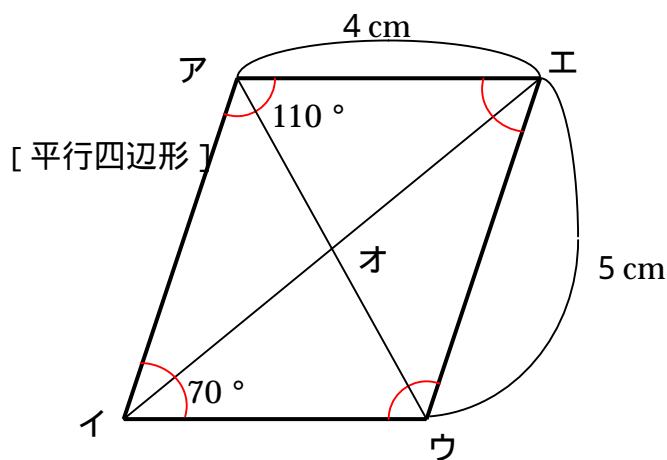
名前

次の四角形の名前をかきましょう。



() () ()

次の^{へいこうしへんけい}平行四辺形や^{がた}ひし形について、下の問題にこたえましょう。



^{へん}辺アイの長さ

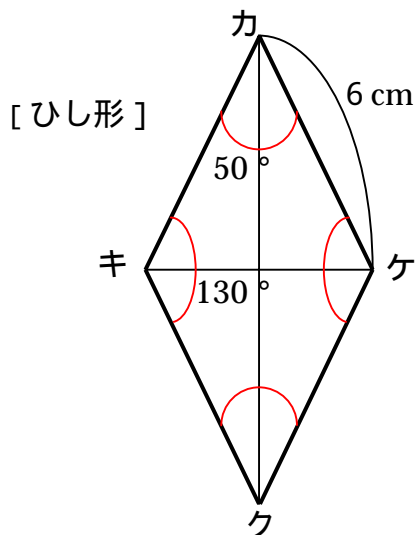
辺イウの長さ

角エの大きさ

直線アオの長さに等しい直線

辺キクの長さ

角クの大きさ



ひし形の2本の^{たいかくせん}対角線が交わってできる角の大きさ