



たしざん(1)

| | | |
|-----|----|----|
| ねん | くみ | ばん |
| なまえ | | |

あわせると いくつですか。しきを かいて
こたえましょう。



$$\square + \square = \square$$


こたえ



はあわせて



ひきです。



$$\square + \square = \square$$

こたえ



はあわせて



ひきです。