





せいりのしかた

ひょう

ねん くみ ばん

なまえ

1. どうぶつや、<sup>むし</sup>虫の<sup>かず</sup>数をしらべて、ひょうにか  
き<sup>い</sup>入れましょう。



むしや、どうぶ つのなまえ	は	ち	う	し	う	ま	ね	ず	み	う	さ	ぎ
むしや、どうぶ つのかず												

2. いちばん数が多い<sup>おお</sup>なかまは、何<sup>なに</sup>でしょう。

3. いちばん数が少<sup>すく</sup>ない<sup>な</sup>なかまは、何<sup>なに</sup>でしょう。