

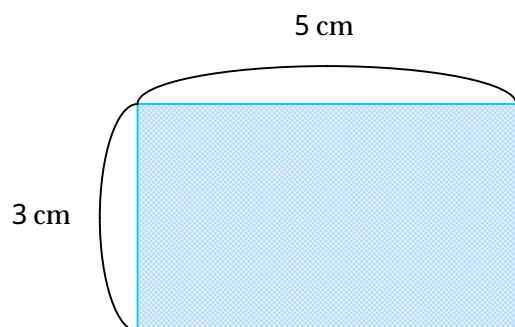
面積

## 長方形と正方形の面積 1

年 組 番

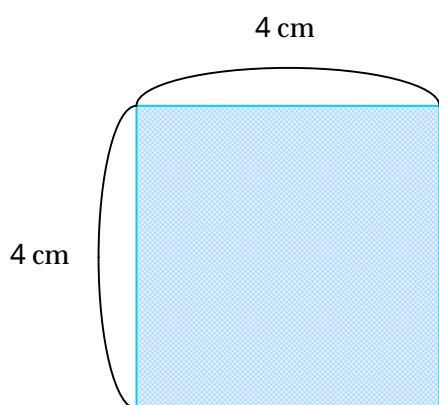
名前

次の面積<sup>めんせき</sup>をもとめましょう。



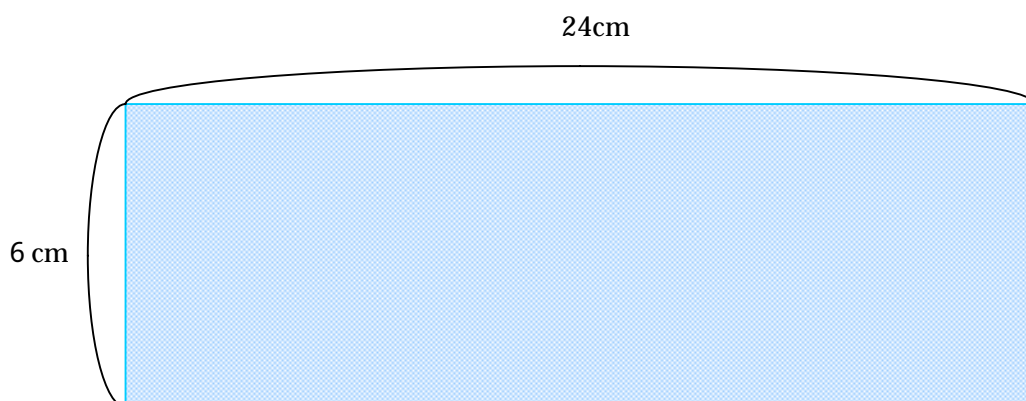
$$3 \times 5 = 15$$

$$\underline{\underline{15 \text{ cm}^2}}$$



$$4 \times 4 = 16$$

$$\underline{\underline{16 \text{ cm}^2}}$$



$$6 \times 24 = 144$$

$$\underline{\underline{144 \text{ cm}^2}}$$