

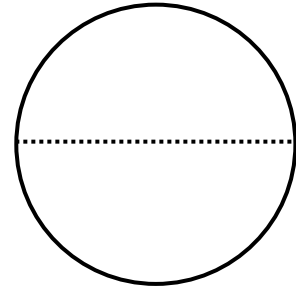
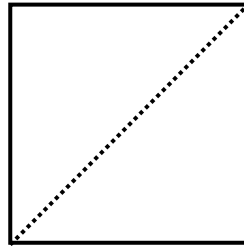
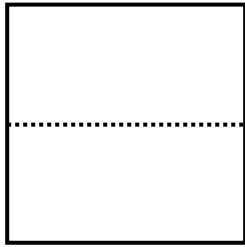
分数

年 組 番


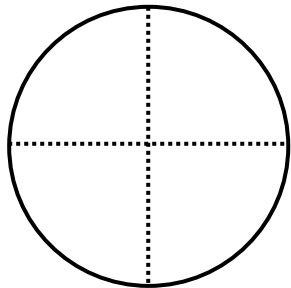
分けた大きさ

名前

もとの大きさの $\frac{1}{2}$ に色をぬりましょう。



もとの大きさの $\frac{1}{4}$ に色をぬりましょう。



いのリボンの長さは、あのリボンの長さの何分の1でしょう。

