

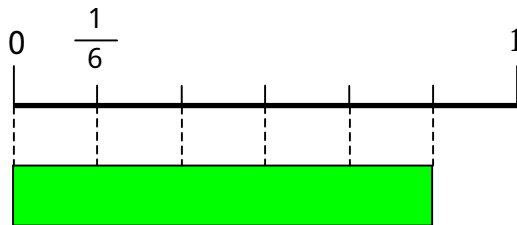
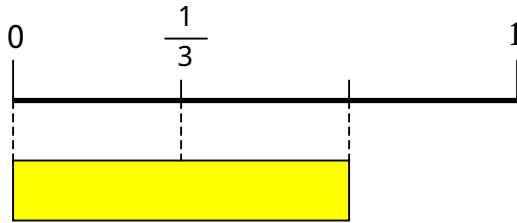
分数

はしたの表し方

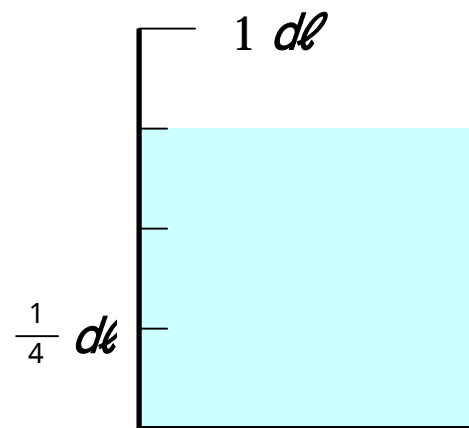
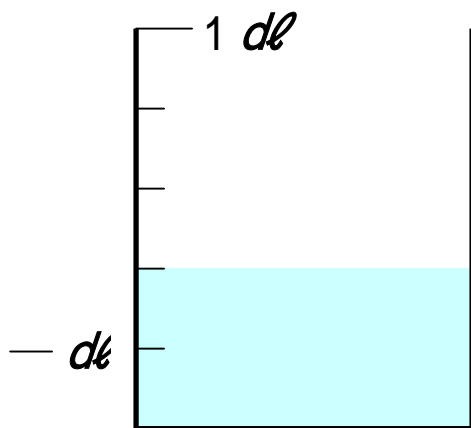
年 組 番

名前

それぞれのテープの長さは何mでしょう。



それぞれの水の量は何 dl でしょう。



つぎの分数をかきましょう。

分母が 8 で、分子が 3

分母が 9 で、分子が 7