

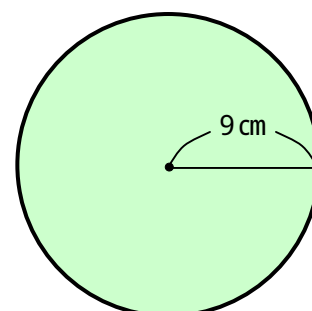
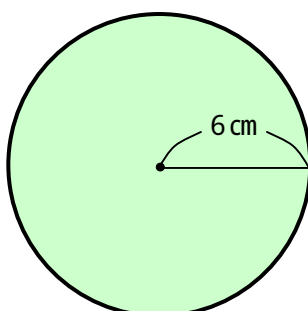
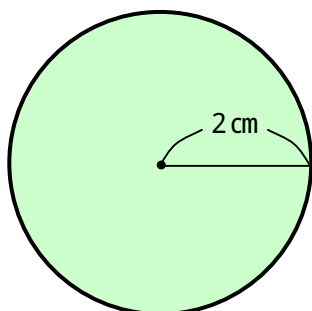
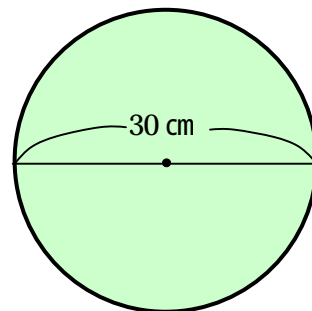
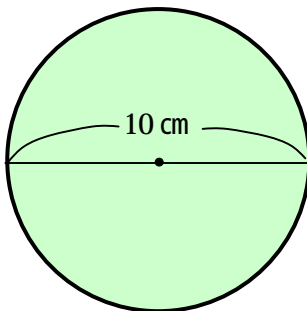
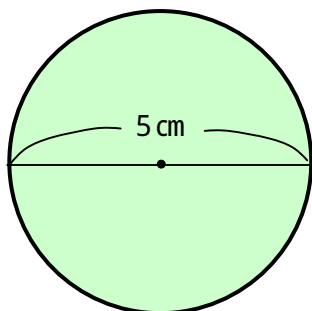
円

円周と直径

年 組 番

名前

1 次の円の円周の長さを求めましょう。



2 次の長さを求めましょう。

円周の長さが 37.68 cm の円の直径

円周の長さが 50.24 cm の円の半径