

時こくと時間


ねん くみ ばん

時こくと時間を読む 1

なまえ


とけいを見て 時こくや時間をいしましょう。

朝おきた



7 時 1 5 分

朝ごはん



7 時 3 0 分

学校へしゅっぱつ



8 時 5 分


朝起きてから朝ごはんまでの時間は
何分間でしょう。

1 5 分間

朝起きてから 学校へしゅっぱつ
するまでの時間は何分間でしょう。

5 0 分間

学校についた



8 時 1 5 分

朝起きてから 学校につくまでの
時間は 何分間でしょう

6 0 分間