

体積

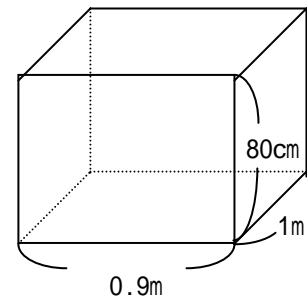
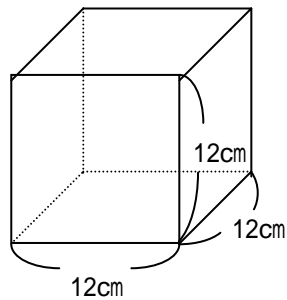
## 直方体と立方体の体積 5

年 組 番

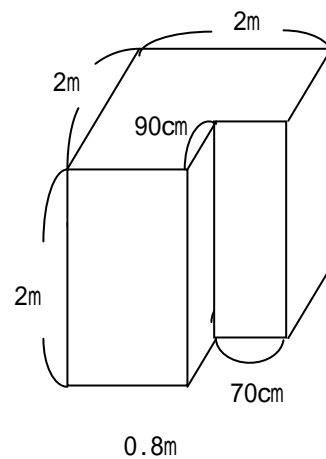
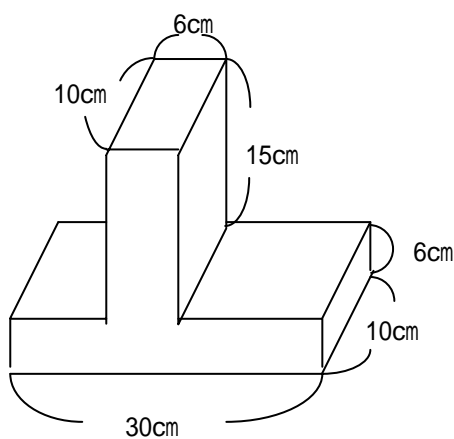
名前

できそうな もんだいの ばんごうに あかで を うちましょう。

1. 次の体積を求めよ。

(  $\text{cm}^3$  )

2. 次の体積を求めよ。

(  $\text{cm}^3$  )