

水のかさ

ねん

くみ

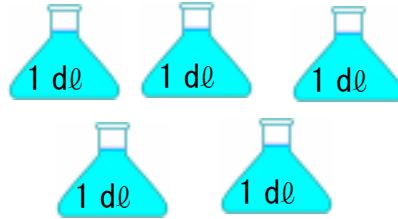
ばん

デシリットルとリットル 1


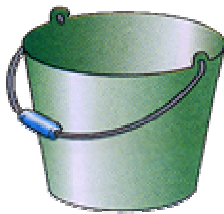
なまえ

1. それぞれのかさはどれだけでしょう。

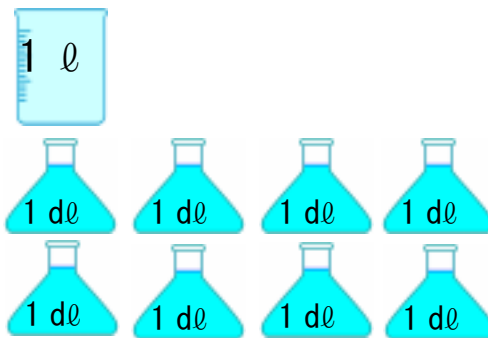
①



②



③



2. にあう^{かず}数^かを書きましょう。

① $1\text{ l} = \square\text{ dl}$

② $20\text{ dl} = \square\text{ l}$

③ $3\text{ l } 6\text{ dl} = \square\text{ dl}$

④ $83\text{ dl} = \square\text{ l } \square\text{ dl}$

3. 計算をしましょう。

① $3\text{ dl} + 5\text{ dl}$

② $7\text{ l} - 4\text{ l}$

③ $8\text{ l } 4\text{ dl} + 1\text{ dl}$

④ $3\text{ l } 2\text{ dl} - 2\text{ dl}$

⑤ $5\text{ l } 3\text{ dl} + 3\text{ l}$

⑥ $6\text{ l } 5\text{ dl} - 5\text{ dl}$