

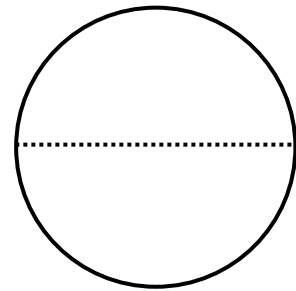
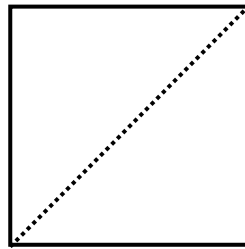
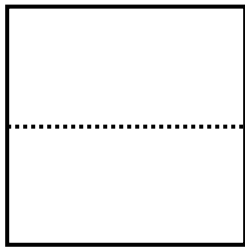
分数

年 組 番


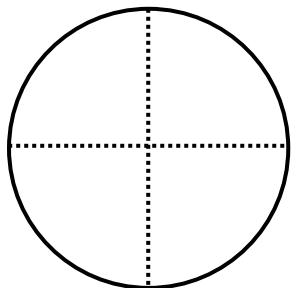
分数であらわす 1

名前

もとの大きさの  $\frac{1}{2}$  に色をぬりましょう。



もとの大きさの  $\frac{1}{4}$  に色をぬりましょう。



いのリボンの長さは、あのリボンの長さの何分の1でしょう。

