

6章(空間の図形) 1節(立体とその調べ方)

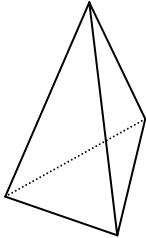
### 3. 角すい, 円すい

年 組 番

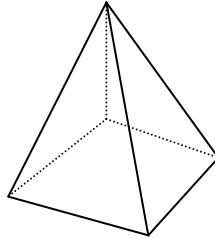
名前

1. 次のア～ウの立体について, 次の問いに答えなさい。

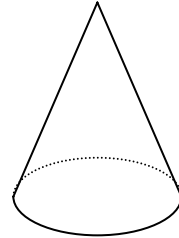
ア.



イ.



ウ.



底面はそれぞれどんな形をしているか。

ア: 三角形

イ: 四角形

ウ: 円

それぞれの立体の名前を答えなさい。

ア: 三角すい

イ: 四角すい

ウ: 円すい

ア, イの立体の側面は, どんな形をしているか。

三角形

頂点から底面に垂直におろした線分の長さを何というか。

高さ