

6章(空間の図形) 1節(立体とその調べ方)

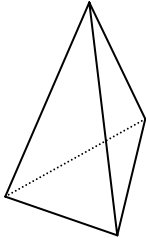
**3 . 角すい, 円すい**

年 組 番

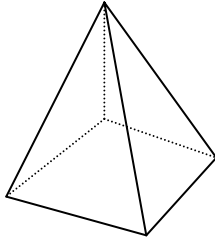
名前

1. 次のア～ウの立体について, 次の問いに答えなさい。

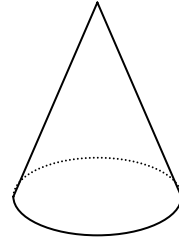
ア.



イ.



ウ.



底面はそれぞれどんな形をしているか。

ア:

イ:

ウ:

それぞれの立体の名前を答えなさい。

ア:

イ:

ウ:

ア, イの立体の側面は, どんな形をしているか。

頂点から底面に垂直におろした線分の長さを何というか。