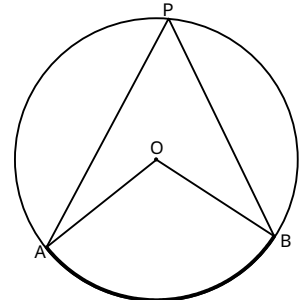


6章(定理の発見と証明) 2節(円周角の定理)

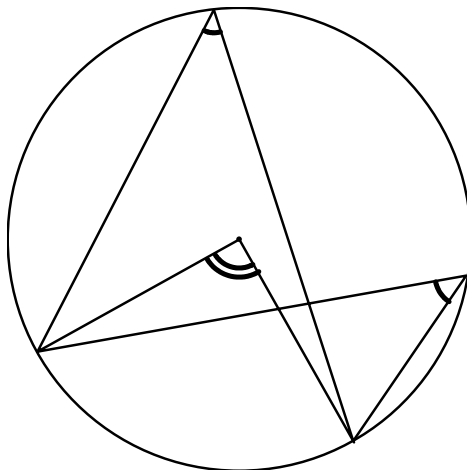
1. 円周角

年 組 番

名前

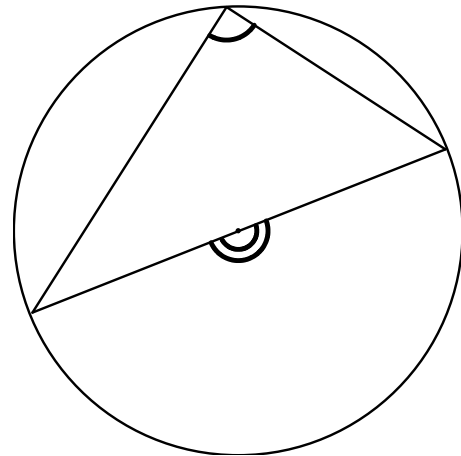
1. $\angle APB$ を、弧 に対する という。弧 AB を、 に対する という。

2. 次の円の中心角と円周角の大きさを、分度器で測って求めなさい。



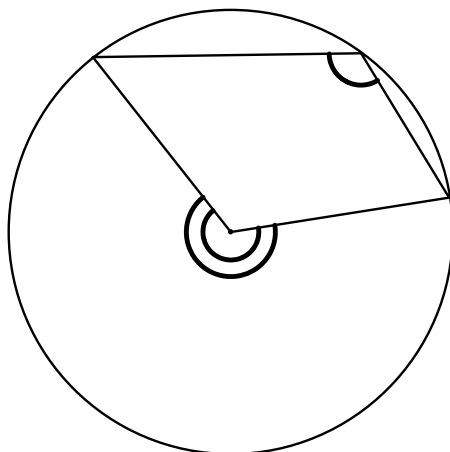
中心角

円周角



中心角

円周角



中心角

円周角