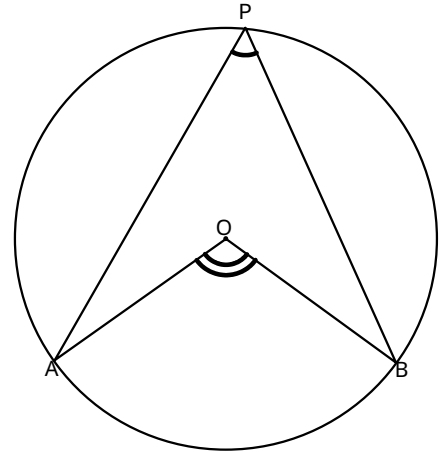
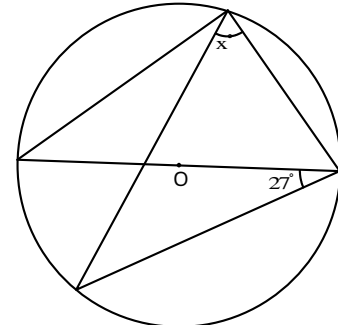
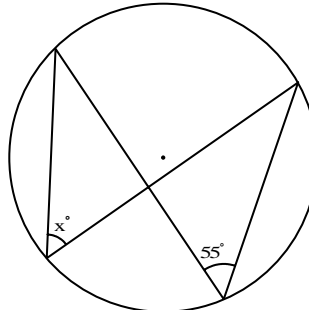
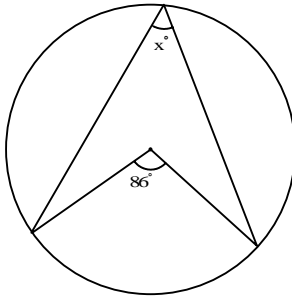


6章(定理の発見と証明) 2節(円周角の定理)

## 2. 円周角の定理

年 組 番

名前

1.  $\angle APB$ と  $\angle AOB$ の大きさの関係を式で表しなさい。2. 次の図で、 $x$ の値を求めなさい。3. 下の図の円の円周を6等分して、4つの点を結んで四角形を作った。  $a$ 、  $b$ の大きさを求めなさい。