

5章(相似と比) 1節(相似な図形)

## 1. 拡大, 縮小

年 組 番



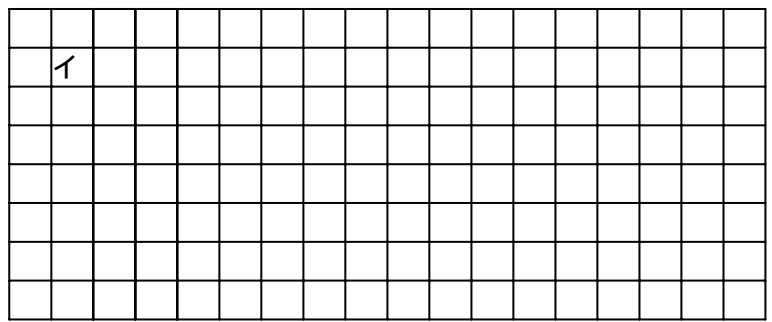
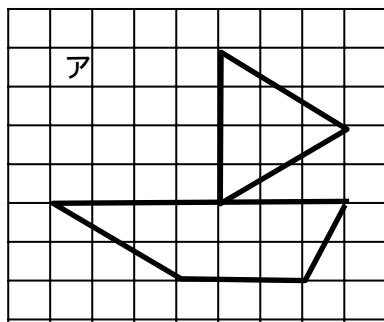
名前

1. アの図形を, 次の ~ のようにかきなさい。

横を2倍する (イ)

縦を2倍する (ウ)

縦と横を2倍する (エ)



2. 上の図を見て次の空欄をうめて文章を完成させなさい。

アの図形をエの図形のように形を( )で大きくするとことを( )する

といい, エの図形をアの図形のように小さくすることを( )するという。